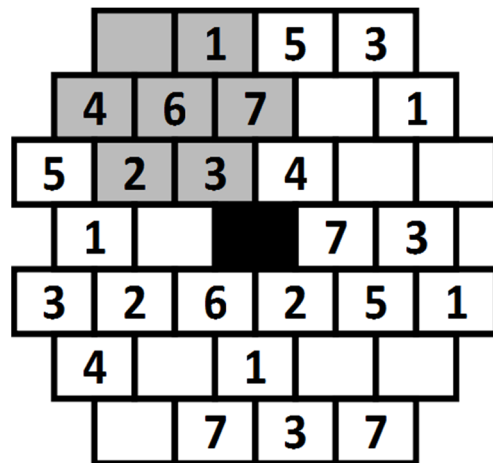



Die Regeln von BrainBrix:


Jede vollständige Gruppe von 7 wabenförmig angeordneten Steinen muss die Ziffern 1 bis 7 genau einmal enthalten. Die Aufgabe rechts enthält 10 Gruppen, die sich überlagern. Eine Gruppe ist grau markiert. Schwarze Steine sind Hindernisse und gehören nicht zu Gruppen. Füllen Sie alle leeren Steine mit den korrekten Ziffern aus.



Aufgabe 1



Aufgabe 2



Aufgabe 3

